






Сурагчийн нэр:

Эхэлсэн: он сар өдөр



 Данханд байгаа шингэнийг аяганд хийхэд 5 аяга дүүрч байна. Тэгвэл энэ сав 5 аяга шингэний багтаамжтай болно.
 

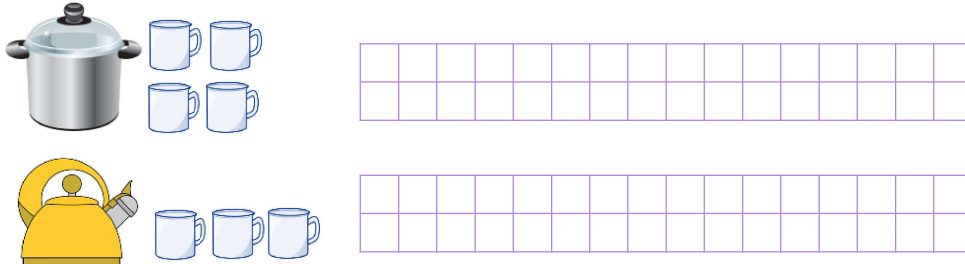
1 Хүү, охин хоёрын хэн нь том савтай вэ? Дугуй дүрсийг будаарай.




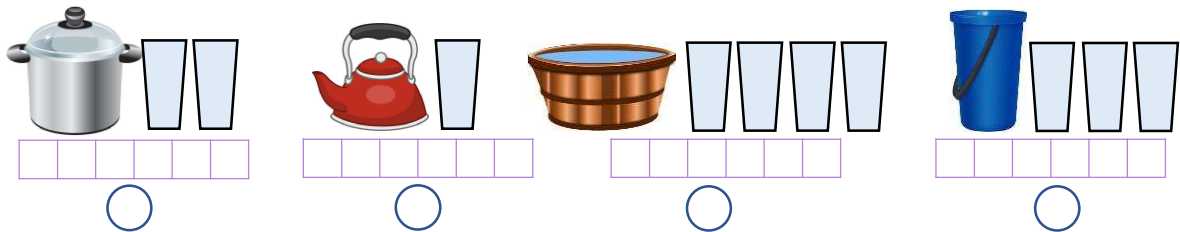
2 Дүрслээрэй.



3 Саванд хэдэн литр ус байсан бэ? 1 аяга нь 1 литрийн багтаамжтай.



4 Савны багтаамжийн хэмжээг бичээд, багаас их рүү эрэмбэлээрэй. 



5  гурван савны нийт шингэний хэмжээг тооцоолоорой.



Дууссан:сарөдөр



Даалгавар	1	2	3	4	5
Өөрийн үнэлгээ					

